

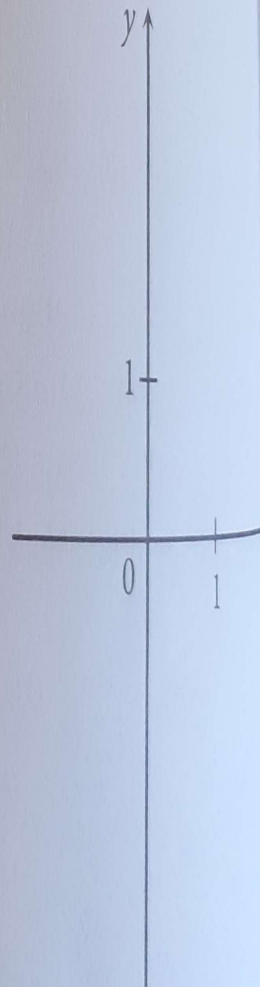
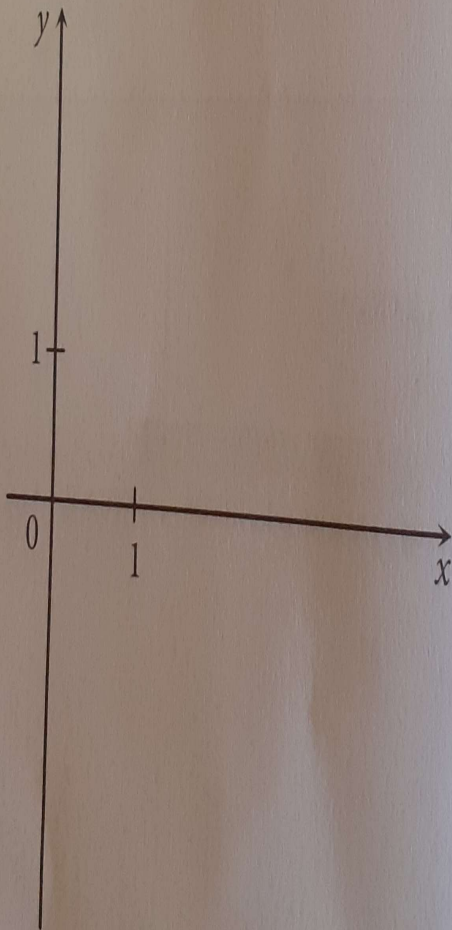
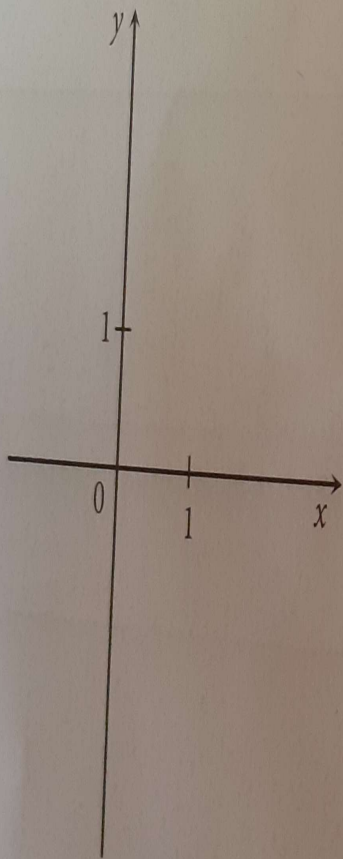
91. ГРАФИЧКИ ПРИКАЗ СИСТЕМА ЛИНЕАРНИХ ЈЕДНАЧИНА

1. а) Графички прикажи дате системе једначина и запиши њихова решења.

(1) $2x + y = 1$
 $x - y = 2$

(2) $x + 2y = 3$
 $2x + 4y = 8$

(3) $2x - y = 1$
 $4x - 2y = 2$



б) У каквом су међусобном положају праве одређене једначинама датих система?

(1)

(2)

(3)

У задацима

1. а) $7x - y =$
 x

2. а) $2x$
 x